


1


Arek ma 28 rybek, a Kacper cztery razy mniej. Ile rybek ma Kacper?



Kacper ma rybek.

2

Na pięciu półkach ustawiono po 10 książek. Ile jest razem książek?



Na półkach jest książek.

3

Duża świeca ma 21 cm wysokości. Mała świeca jest trzy razy niższa od dużej, a średnia jest dwa razy wyższa od małej.

Jaką wysokość ma mała świeca?

.....

Mała świeca ma cm wysokości.

Jaką wysokość ma średnia świeca?


.....

Średnia świeca ma cm wysokości.



4


Każde z 6 dzieci miało po 9 dekagramów suszonych moreli. Ile dekagramów łącznie ważyły morele?



Morele ważyły dag.

5

Mama kupiła 27 sadzonek pelargonii. W każdej donicy chce posadzić 3 sadzonki. Ile musi przygotować donic?



Mama musi przygotować donic.

6

W gospodarstwie agroturystycznym jest dziesięć kur, pięć kaczek, dwa konie i sześć gęsi. Ile nóg mają wszystkie zwierzęta razem?

Kura ma nogi. Dziesięć kur ma nóg.

Kaczka ma nogi. Pięć kaczek ma nóg.

Koń ma nogi. Dwa konie mają nóg.

Gęś ma nogi. Sześć gęsi ma nóg.


.....

Wszystkie zwierzęta razem mają nóg.



7


W turnieju szachowym bierze udział 18 osób. Partie rozgrywa jednocześnie 6 par. Ile osób czeka na rozegranie swoich partii?



Na rozegranie partii czeka osób.

8

Na wycieczkę szkolną pojechało 9 chłopców i 4 razy więcej dziewczynek. Ile dzieci pojechało na wycieczkę?



Na wycieczkę pojechało dzieci.

9

Mała doniczka kosztuje 9 zł. Duża doniczka jest 2 razy droższa od małej.

Ile kosztuje duża doniczka?

Duża doniczka kosztuje zł.

Ile zapłacono za małą i dużą doniczkę?

Za małą i dużą doniczkę zapłacono zł.

Ile zapłacono za 1 dużą i 8 małych doniczek?



Za 8 małych doniczek zapłacono zł.

Za 1 dużą i 8 małych doniczek zapłacono zł.



10


Agata narysowała 9 zwierząt – kaczki i króliki. Zwierzęta mają razem 28 nóg. Ile jest kaczek, a ile królików?



Kaczek jest, a królików

11

Mama Jasia ma 36 lat. Jaś jest cztery razy młodszy od mamy, a tata pięć razy starszy od Jasia. Ile lat ma tata Jasia?



Tata Jasia ma lat.



12 Pani Zosia kupiła 8 sadzonek róż i 6 sadzonek wrzosów. Ile złotych zapłaciła?

Koszt zakupu róż:


Koszt zakupu wrzosów:

Koszt zakupu wszystkich sadzonek:

Pani Zosia zapłaciła zł.



13 Do zrobienia jednego karmnika potrzeba 6 szerokich desek i 3 wąskie. Ile potrzeba wszystkich desek do zrobienia 7 karmników?



Potrzeba deski.

14 Turyści wybierają się do muzeum. Ile zapłacą za bilety, jeżeli ich grupa składa się z 4 osób dorosłych i 8 dzieci?

Koszt biletów dla dorosłych:


Koszt biletów dla dzieci:

Koszt wszystkich biletów:

Za bilety zapłacą zł.

CENNIK	
Bilet normalny:	10 zł
Bilet ulgowy:	7 zł


15 W sklepie zoologicznym Filip kupił 6 rybek po 8 zł za każdą. Ile otrzymał reszty, płacąc banknotem pięćdziesięciozłotowym?



Filip otrzymał zł reszty.

Za ciemnoczerwoną wstążkę Agata zapłaciła 42 zł. Ile rolek wstążki kupiła Agata, jeśli jedna rolka kosztowała 6 zł?

16



Agata kupiła rolek wstążki.

17 Kacper kupił atlas ptaków za 42 zł, a Dominik sześć razy tańszy piórnik.

Ile kosztował piórnik, który kupił Dominik?

.....

Piórnik kosztował zł.

Ile złotych chłopcy zapłacili razem za zakupy?

.....

Razem chłopcy zapłacili zł.

18

W pierwszej szufladzie jest 9 piłeczek. W drugiej jest ich sześć razy więcej niż w pierwszej, zaś w trzeciej trzy razy mniej niż w pierwszej.

W pierwszej szufladzie jest piłeczek.

Ile piłeczek jest w drugiej szufladzie?

.....

W drugiej szufladzie są piłeczki.

Ile piłeczek jest w trzeciej szufladzie?


.....

W trzeciej szufladzie są piłeczki.

Ile piłeczek jest we wszystkich szufladach?


.....

We wszystkich szufladach jest piłeczek.



19


W skrzynce mieści się 8 kg czereśni. Pusta skrzynka waży 2 kg. Ile waży 10 skrzynek z czereśniami?



10 skrzynek z czereśniami waży kg.

20



Florystka zrobiła 9 bukietów. W każdym były 3 tulipany czerwone, 2 tulipany białe i 2 żonkile. Ile kwiatów potrzebowała florystka na wszystkie bukiety?



Florystka potrzebowała kwiaty.

21


W pierwszej skrzyni były 32 kg jabłek, w drugiej 4 razy mniej niż w pierwszej, a w trzeciej 5 razy więcej niż w drugiej. Ile kilogramów jabłek było w trzech skrzyniach razem?



W trzech skrzyniach było kg jabłek.

22


Iza spędziła u babci 4 tygodnie i 2 dni. Ile dni Iza była u babci?



Iza była u babci dni.

23

Mama ma 40 lat, a jej córka Ala 4 razy mniej. Ile lat ma Ala?



Ala ma lat.

24

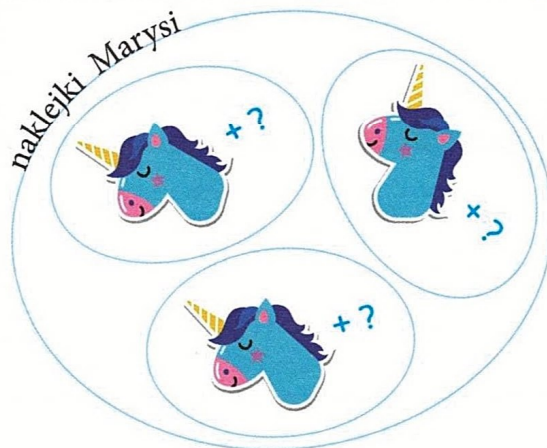
Zosia i Marysia mają 36 naklejek. Marysia ma 3 razy więcej naklejek niż Zosia. Ile naklejek ma każda z dziewczynek?



Liczba naklejek Zosi:

Liczba naklejek Marysi:

Zosia ma naklejek, a Marysia



25

W jednym dzbanku mieszczą się 4 szklanki soku.

Ile szklanek soku mieści się w 5 dzbankach?

.....

W 5 dzbankach mieści się szklanek soku.

Na przyjęcie urodzinowe potrzebne są 32 szklanki soku.

Ile dzbanków z sokiem należy przygotować?

.....

Należy przygotować dzbanków z sokiem.

26

Gromada zuchów wędrowała parami na biwak. Maja policzyła, że przed jej parą idzie 8 par, a za nią 6 par. Ilu zuchów szło na biwak?

Przed Mają idzie zuchów. Za Mają idzie zuchów.

Na biwak idzie + + = zuchów.

Na biwak szło zuchów.

